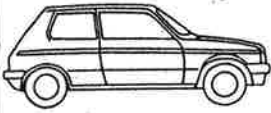
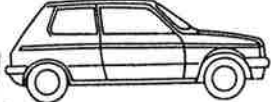


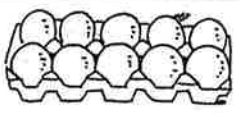
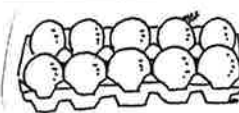




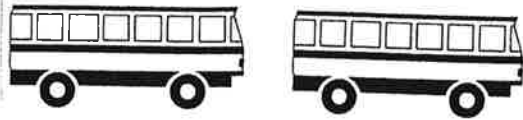
REKENTERMEN

DEEL 6

WINST

| | |
|---|---|
| <div style="display: flex; justify-content: space-around; align-items: center;"> <div style="text-align: center;">  Ko koopt voor €3500,00 </div> <div style="text-align: center;"> 1  Ko verkoopt voor €4000,00 </div> </div> <p>Autohandelaar Ko heeft gisteren deze auto gekocht voor €3500,00. Vandaag verkoopt hij de auto voor €4000,00.</p> <p>Hoe groot is de winst?</p> <p>Gekocht voor €3500,00. Verkocht voor €4000,00. $€4000,00 - €3500,00 = €500,00$ Dus €500,00 winst.</p> | <div style="display: flex; justify-content: space-around; align-items: center;"> <div style="text-align: center;">  Ab koopt voor €100.000,00 </div> <div style="text-align: center;"> 2  Ab verkoopt voor €120.000,00 </div> </div> <p>Ab heeft dit huisje vorige maand voor €100.000,00 gekocht. Deze week heeft Ab het huisje voor €120.000,00 verkocht.</p> <p>Hoe groot is de winst?</p> <p>Gekocht voor €100.000,00. Verkocht voor €120.000,00. $€120.000,00 - €100.000,00 = €20.000,00$ Dus €20.000,00 winst.</p> |
| <div style="display: flex; justify-content: space-around; align-items: center;"> <div style="text-align: center;">  P9 koopt voor €1,00 </div> <div style="text-align: center;"> 3  P9 verkoopt voor €1,50 </div> </div> <p>Supermarkt P9 koopt bij de groothandel eieren. Voor elk doosje van 10 eieren betaalt de supermarkt €1,00. De supermarkt verkoopt elk doosje eieren voor €1,50. Per dag verkoopt de supermarkt 100 doosjes eieren.</p> <p>Hoe groot is de winst op de eieren per dag?</p> <p>Gekocht voor €1,00. Verkocht voor €1,50. $€1,50 - €1,00 = €0,50$ Per doosje €0,50 winst maal 100 doosjes is €50,00. Dus €50,00 winst op de eieren.</p> | <div style="display: flex; justify-content: space-around; align-items: center;"> <div style="text-align: center;">  Het kost Lu €50,00 </div> <div style="text-align: center;"> 4  Lu ontvangt €100,00 </div> </div> <p>Dit vliegtuig vervoert elke vlucht vanaf Eindhoven naar Madrid 150 passagiers. Elke passagier kost de vliegtuigmaatschappij Lu €50,00 (voor o.a. personeel, brandstof en het vliegtuig zelf). Een passagier betaalt €100,00 voor deze vlucht.</p> <p>Hoe groot is de winst op deze vlucht?</p> <p>Kosten € _____ per passagier. Betaald € _____ per passagier. $€ _____ - € _____ = € _____$ Per passagier € _____ winst maal _____ passagiers is € _____. Dus € _____ winst.</p> |

5



Het kost Zo
€275,00

Zo ontvangt
€400,00

Deze bus brengt 50 leerlingen van basisschool "de rank" uit Reusel voor €400,00 naar "de Efteling" in Kaatsheuvel. Deze rit kost het busbedrijf Zo €275,00 (voor o.a. personeel, brandstof en de bus zelf).

Hoe groot is de **winst** op deze rit voor het busbedrijf?

6



Jo koopt voor
€0,25



Jo verkoopt voor
€0,65

Hier zie je Jo met zijn groente- en fruitkraam op de markt staan. Jo verkoopt ook wortelen. Voor elke kilo wortelen moet Jo aan de boer €0,25 betalen. Op de markt verkoopt Jo deze wortelen voor €0,65 per kilo. Vandaag verkoopt Jo 80 kilo wortelen.

Hoe groot is de **winst** van Jo vandaag op de verkoop van de wortelen?

VERLIES

| | |
|---|--|
| <div style="display: flex; justify-content: space-around; align-items: center;"> <div style="text-align: center;">  <p>1</p> <p>Wim koopt voor €20,00</p> </div> <div style="text-align: center;">  <p>2</p> <p>Wim verkoopt voor €17,50</p> </div> </div> <p>Wim heeft eergisteren dit dartspel gekocht voor €20,00. Na een dag vond hij dit spel niet meer leuk en hij verkoopt het spel vandaag voor €17,50 aan zijn vriend Joris.</p> <p>Hoe groot is het verlies?</p> | <div style="display: flex; justify-content: space-around; align-items: center;"> <div style="text-align: center;">  <p>1</p> <p>Mo koopt voor €2,00</p> </div> <div style="text-align: center;">  <p>2</p> <p>Mo verkoopt voor €1,00</p> </div> </div> <p>Mo heeft een fruitkraam op de markt. Het is zaterdagmiddag 4 uur en Mo wil zijn kersen nog verkopen. Maandag zijn ze bedorven. Die kersen heeft hij op de veiling voor €2,00 per kilo gekocht. Nu verkoopt hij de kersen voor €1,00 per kilo. Hij verkoopt al zijn kersen nog. 45 kilo in totaal.</p> <p>Hoe groot is het verlies op de kersen?</p> |
| <p>Gekocht voor €20,00. Verkocht voor €17,50. $€20,00 - €17,50 = €2,50$ Dus €2,50 verlies.</p> | <p>Gekocht voor €2,00 per kilo. Verkocht voor €1,00 per kilo. $€2,00 - €1,00 = €1,00$ maal 45 kilo $= €45,00$. Dus €45,00 verlies.</p> |
| <div style="display: flex; justify-content: space-around; align-items: center;"> <div style="text-align: center;">  <p>3</p> <p>Het kost Ro €3000,00</p> </div> <div style="text-align: center;">  <p>4</p> <p>Ro ontvangt €1875,00</p> </div> </div> <p>Dierentuin "Ro" heeft dagelijks voor €3000,00 kosten. Op dinsdag 23 september komen 150 bezoekers die ieder €12,50 betalen.</p> <p>Hoe groot is het verlies op deze dag?</p> | <div style="display: flex; justify-content: space-around; align-items: center;"> <div style="text-align: center;">  <p>1</p> <p>Het kost Ka €0,40</p> </div> <div style="text-align: center;">  <p>2</p> <p>Ka ontvangt €0,35</p> </div> </div> <p>Ka heeft op zijn boerderij 40 koeien die dagelijks 300 liter melk geven. De boer heeft omgerekend per liter melk €0,40 kosten. De melkfabriek geeft maar €0,35 per liter melk.</p> <p>Hoe groot is het verlies per dag op de melk?</p> |
| <p>Kosten op 23 september €3000,00. Betaald op 23 september €1875,00 $€3000,00 - €1875,00 = €1125,00$. Dus €1125,00 verlies.</p> | <hr style="border: 1px solid black;"/> <hr style="border: 1px solid black;"/> |

5



Bloemetje koopt voor €3,50




Bloemetje verkoopt voor €2,75

Het is zaterdag 23 juli. Morgen begint de vakantie voor het personeel van bloemenwinkel "bloemetje". De bloemen kunnen niet tot na de vakantie bewaard blijven. Voor elke bos bloemen is op de veiling €3,50 betaald. Vandaag kost elke bos bloemen €2,75. Alle 90 bossen bloemen zijn om vier uur 's middags verkocht.

Hoe groot is het **verlies** op deze bossen bloemen?

6



Sa koopt voor €500,00




Sa verkoopt voor €415,00

Oma Sa heeft vorige maand een schilderij gekocht voor €500,00. Ze is deze week verhuisd naar een kleinere woning. Wat blijkt nu? Er is geen plaats meer voor dat schilderij. Via internet verkoopt ze het schilderij voor €415,00.


Hoe groot is het **verlies** op dit schilderij?

PRIJSVERHOGING – PRIJSVERLAGING

| | |
|---|--|
| <p style="text-align: center;">1.</p> <div style="display: flex; justify-content: space-around;">  </div> <p>Deze tafel kost vandaag €120,00. Diezelfde tafel kostte gisteren €100,00</p> <p>Is de prijs voor deze tafel verhoogd of verlaagd? Leg je antwoord uit! Is dit een prijsverhoging of een prijsverlaging? Leg je antwoord uit!</p> | <p style="text-align: center;">2.</p> <div style="display: flex; justify-content: space-around;">  </div> <p>Deze piano kost nu €400,00. Diezelfde piano kostte eergisteren €450,00.</p> <p>Is de prijs voor deze piano verhoogd of verlaagd? Leg je antwoord uit! Is dit een prijsverhoging of een prijsverlaging? Leg je antwoord uit!</p> |
| <p>De prijs van deze tafel is verhoogd, want de tafel is €20,00 duurder geworden. $€120,00 - €100,00 = €20,00$</p> <p>Dit is een prijsverhoging, want de tafel is €20,00 duurder geworden.</p> | <p>De prijs voor deze piano is verlaagd, want de piano is €50,00 goedkoper geworden. $€450,00 - €400,00 = €50,00$.</p> <p>Dit is een prijsverlaging, want de piano is €50,00 goedkoper geworden.</p> |
| <p style="text-align: center;">3.</p> <div style="display: flex; justify-content: space-around;">  </div> <p>Deze kan kost deze maand €7,50. Dezelfde kan kostte vorige maand €8,50.</p> <p>Is de prijs voor deze kan verhoogd of verlaagd? Leg je antwoord uit! Is dit een prijsverhoging of een prijsverlaging? Leg je antwoord uit!</p> | <p style="text-align: center;">4.</p> <div style="display: flex; justify-content: space-around;">  </div> <p>Deze bos tulpen kost vandaag €4,00. Diezelfde bos tulpen kostte gisteren €6,00.</p> <p>Is de prijs voor deze bos tulpen verhoogd of verlaagd? Leg je antwoord uit! Is dit een prijsverhoging of een prijsverlaging? Leg je antwoord uit!</p> |
| <p>De prijs voor deze kan is verlaagd, want de kan is €1,00 goedkoper geworden. $€8,50 - €7,50 = €1,00$</p> <p>Dit is een prijsverlaging, want de kan is €1,00 goedkoper geworden.</p> | <p>De prijs _____</p> <p>_____</p> <p>_____</p> <p>_____</p> <p>_____</p> |



5.



Deze schaatsen kosten dit jaar €350,00.

Diezelfde schaatsen kostten vorig jaar €325,00.

Is de prijs voor deze schaatsen verhoogd of verlaagd? Leg je antwoord uit!

Is dit een prijsverhoging of een prijsverlaging? Leg je antwoord uit!

De prijs _____



6.



Deze sportwagen kost deze maand €40.000,00





Dezelfde sportwagen kostte drie maanden geleden €42.000,00.

Is de prijs voor deze sportwagen verhoogd of verlaagd? Leg je antwoord uit!


Is dit een prijsverhoging of een prijsverlaging? Leg je antwoord uit!

De prijs _____


net zoveel als
evenveel als

| | |
|--|--|
| <p style="text-align: center;">1.</p> <div style="display: flex; justify-content: space-around;"><div style="display: flex; justify-content: space-around;"><p>taart 1</p><p>taart 2</p></div></div> <p>Hier zie je twee taarten. Taart 1 heeft 4 kaarsjes en taart 2 heeft 4 kaarsjes. We kunnen zeggen: Taart 1 heeft evenveel kaarsjes als taart 2. Taart 1 heeft net zoveel kaarsjes als taart 2.</p> | <p style="text-align: center;">2.</p> <div style="display: flex; justify-content: space-around;"><div style="display: flex; justify-content: space-around;"><p>boek 1</p><p>boek 2</p></div></div> <p>Hier zie je twee boeken. Boek 1 heeft 20 bladzijdes en boek 2 heeft 20 bladzijdes. We kunnen zeggen: Boek 1 heeft evenveel bladzijdes als boek 2. Boek 1 heeft net zoveel bladzijdes als boek 2.</p> |
| <p style="text-align: center;">3.</p> <div style="display: flex; justify-content: space-around;"><div style="display: flex; justify-content: space-around;"><p>pot A:</p><p>pot B:</p></div></div> <p>Hier zie je twee potten met planten. Pot A kost €5,50 en pot B kost €5,50. We kunnen zeggen: Pot A kost evenveel als pot B. Pot A kost net zoveel als pot B.</p> | <p style="text-align: center;">4.</p> <div style="display: flex; justify-content: space-around;"><div style="display: flex; justify-content: space-around;"><p>kip A:</p><p>kip B:</p></div></div> <p>Hier zie je twee kippen. Kip A legt elke dag 4 eieren en kip B legt iedere dag 4 eieren. We kunnen zeggen: Kip A legt _____ _____ Kip A legt _____ _____</p> |

5.



lieveheers-
beestje 1



lieveheers-
beestje 2

Hier zie je twee lieveheersbeestjes.

Lieveheersbeestje 1 heeft 13
stippen en lieveheersbeestje 2
heeft 13 stippen.

Je kunt ook zeggen:

6.



doel A



doel B

Hier zie je twee doelen.
In doel A liggen 11 ballen en in
doel B liggen 11 ballen.

Je kunt ook zeggen:

net zo duur als
even duur als

1.



taart



stuk vlees

Hier zie je een taart en een stuk vlees.

De taart kost €22,50 en het stuk vlees kost €22,50.

Je kunt zeggen:


De taart is **net zo duur als** het stuk vlees.

De taart is **even duur als** het stuk vlees.

2.



trekpop



muis

Hier zie je een trekpop en een muis.

De trekpop kost €3,50 en de muis kost €3,50.

Je kunt zeggen:

De trekpop is **net zo duur als** de muis.

De trekpop is **even duur als** de muis.

3.



riem



vlieger

Hier zie je een riem en een vlieger.

De riem kost €6,00 en de vlieger kost €6,00.

Je kunt zeggen:

De riem is **net zo duur als** de vlieger.

De riem is **even duur als** de vlieger.

4.



pot met planten



stropdas

Hier zie je een pot met planten en een stropdas.

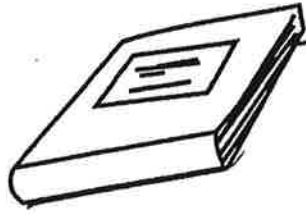
De pot met planten kost €7,50 en de stropdas kost €7,50.

Je kunt zeggen:

5.



boek A



boek B

Hier zie je twee boeken. Boek A kost €26,00 en boek B kost €26,00.

Je kunt zeggen:

6.



jas




mand met eieren

Hier zie je een jas en een mand met eieren. De jas kost €32,95 en de mand met eieren kost €32,95.

Je kunt zeggen:

net zo zwaar als
even zwaar als

1.




Hier zie je een taart en een boek.
De taart weegt 2 kilo en het boek
weegt 2 kilo.

Je kunt ook zeggen:

De taart is **even zwaar als** het
boek.

De taart is **net zo zwaar als** het
boek.

2.




Hier zie je twee pinda's en een lie-
veheersbeestje. De twee pinda's
wegen 3 gram en het lieveheers-
beestje weegt 3 gram.

Je kunt zeggen:

De twee pinda's zijn **even zwaar**
als het lieveheersbeestje.

De twee pinda's zijn **net zo zwaar**
als het lieveheersbeestje.

3.




Hier zie je een man en een paard.
De man weegt 110 kilo en het
paard weegt 110 kilo.

Je kunt zeggen:

De man is **even zwaar als** het
paard.

De man is **net zo zwaar als**
het paard.


4.



Hier zie je een riem en een vlieger.
De riem weegt 250 gram en de
vlieger weegt 250 gram.


Je kunt zeggen:

5.



Hier zie je een vaas en een pot met snoepjes.
De vaas weegt 1 kilo en de pot met snoepjes weegt 1 kilo.
Je kunt ook zeggen:


6.



Hier zie je een trekpop en een muis.
De trekpop weegt 175 gram en de muis weegt 175 gram.
Je kunt zeggen:

net zo groot als
even groot als

1.



schilderij 1

schilderij 2

Hier zie je twee schilderijen.
Schilderij 1 is niet groter of kleiner
dan schilderij 2.

Je kunt ook zeggen:

Schilderij 1 is **even groot als**
schilderij 2.

Schilderij 1 is **net zo groot als**
schilderij 2.

2.



pinda 1

pinda 2


Hier zie je twee pinda's. Pinda 1 is
niet kleiner of groter dan pinda 2.

Je kunt ook zeggen:

Pinda 1 is **even groot als** pinda 2.

Pinda 1 is **net zo groot als** pinda
2.

3.



appel 1

appel 2


Hier zie je twee appels.
Appel 1 is niet groter of kleiner dan
appel 2.

Je kunt ook zeggen:

Appel 1 is **even groot als** appel 2.

Appel 1 is **net zo groot als** appel
2.

4.



kikker 1

kikker 2

Hier zie je twee kikkers. Kikker 1 is
niet groter of kleiner dan kikker 2.

Je kunt ook zeggen:

5.




trekpop 1




trekpop 2

Hier zie je twee trekpoppen.
Trekpop 1 is niet kleiner of groter
dan trekpop 2.
Je kunt ook zeggen:

6.



muis 1




muis 2

Hier zie je twee muizen.
Muis 1 is niet kleiner of groter dan
muis 2.
Je kunt ook zeggen:

net zo lang als
even lang als

1.



kaars 1

kaars 2

Hier zie je twee kaarsen.
Kaars 1 is niet korter of langer dan
kaars 2.
Je kunt ook zeggen:
Kaars 1 is **net zo lang als** kaars 2.
Kaars 1 is **even lang als** kaars 2.

2.




waslijn 1

waslijn 2

Hier zie je twee waslijnen.
Waslijn 1 is niet korter of langer
dan waslijn 2.
Je kunt ook zeggen:
Waslijn 1 is **net zo lang als** waslijn
2.
Waslijn 1 is **even lang als** waslijn
2.

3.

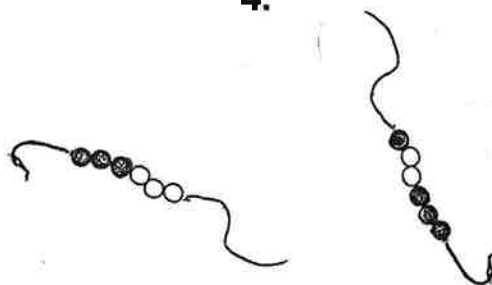


muis 1

muis 2

Hier zie je twee muizen.
De staart van muis 1 is niet korter
of langer dan de staart van muis 2.
Je kunt zeggen:
De staart van muis 1 is **even lang
als** de staart van muis 2.
De staart van muis 1 is **net zo lang
als** de staart van muis 2.

4.




kralensnoer 1

kralensnoer 2

Hier zie je twee kralensnoeren.
Kralensnoer 1 is niet korter of
langer dan kralensnoer 2.
Je kunt zeggen:

5.



hek 1



hek 2

Hier zie je twee hekken.
Hek 1 is niet korter of langer dan
hek 2.

Je kunt ook zeggen:

6.



riem 1




riem 2

Hier zie je twee riemen.
Riem 1 is niet korter of langer dan
riem 2.

Je kunt ook zeggen:

5



Het kost Lollyland
€0,07


Lollyland ontvangt
€0,13

In fabriek "Lollyland" worden elke dag 30.000 lolly's gemaakt. Elke lolly kost de fabriek €0,07 (o.a. voor het personeel, de machines en het gebouw). Lollyland verkoopt elke lolly voor €0,13 aan supermarkten en snoepwinkels.

Hoeveel **winst** of **verlies** maakt Lollyland elke dag? Leg je antwoord uit!

6

SLAGERIJ



Sta koopt voor
€3,50



Sta verkoopt voor
€3,35


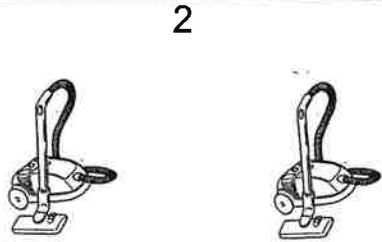

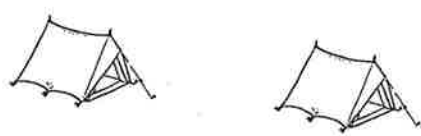
Bij de opening van zijn nieuwe slagerij is vandaag vlees in de aanbieding bij slager Sta. Bij de groothandel betaalde hij €3,50 per kilo vlees. Nu betaalt iedere klant €3,35 per kilo vlees. Slager Sta verkoopt vandaag 70 kilo vlees.

Hoeveel **winst** of **verlies** maakt slager Sta vandaag? Leg je antwoord uit!

HERHALING

PRIJSVERHOGING – PRIJSVERLAGING

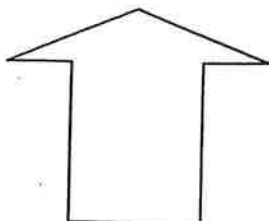
WINST – VERLIES

| | |
|--|--|
| <div style="text-align: center; margin-bottom: 10px;">  </div> <p>Het kost Vu €2,00 Vu ontvangt €3,00</p> <p>Fabriek "Vu" maakt vorken. Het kost "Vu" €2,00 om een vork te maken (o.a. voor personeel, de machines en het gebouw). De fabriek verkoopt elke dag 5000 vorken aan winkels voor €3,00 per vork.</p> <p>Hoeveel winst of verlies maakt deze fabriek per dag? Leg je antwoord uit!</p> <p>Deze fabriek maakt _____</p> | <div style="text-align: center; margin-bottom: 10px;">  </div> <p>Deze stofzuiger kost deze maand €75,00. Diezelfde stofzuiger kostte vorige maand €80,00.</p> <p>Is de prijs van deze stofzuiger verhoogd of verlaagd? Leg je antwoord uit!</p> <p>Is dit een prijsverhoging of een prijsverlaging? Leg je antwoord uit!</p> <p>De prijs _____</p> |
| <div style="text-align: center; margin-bottom: 10px;">  </div> <p>Het kost Jos €4,00 Jos ontvangt €3,75</p> <p>Jos staat met zijn draaimolen op de kermis in Heusden. Elke rit kost Jos €4,00 (o.a. voor elektriciteit en de standplaats). Per dag maakt de draaimolen 80 ritten. Vandaag maken 400 kinderen een ritje met de draaimolen. Elk kind betaalt €0,75 per rit.</p> <p>Hoeveel winst of verlies maakt Jos vandaag? Leg je antwoord uit!</p> <p>_____</p> | <div style="text-align: center; margin-bottom: 10px;">  </div> <p>Deze tent kost deze week €45,00. Diezelfde tent kostte vorige week €40,00.</p> <p>Is de prijs van deze tent verhoogd of verlaagd? Leg je antwoord uit!</p> <p>Is dit een prijsverhoging of een prijsverlaging? Leg je antwoord uit!</p> <p>De prijs _____</p> |

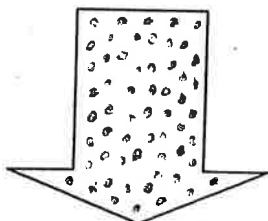
HERHALING

net zoveel als – evenveel als
net zo groot als – even groot als
net zo lang als – even lang als

1.



pijl 1



pijl 2

Hier zie je twee pijlen. Pijl 1 is niet kleiner of groter dan pijl 2.
Je kunt zeggen:

2.



mand 1



mand 2

Hier zie je twee manden met eieren. In mand 1 zitten 40 eieren en in mand 2 zitten 40 eieren.
Je kunt ook zeggen:

3.




linker-
paal

rechter-
paal

Hier zie je een rechter- en linker-
paal. De rechterpaal is niet korter
of langer dan de linkerpaal. Je kunt
zeggen:

4.



stoel 1



stoel 2

Hier zie je twee stoelen. Stoel 1 is
niet kleiner of groter dan stoel 2. Je
kunt zeggen:

5.



mes 1

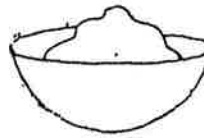


mes 2


Hier zie je twee messen. Mes 1 is niet korter of langer dan mes 2.

Je kunt zeggen:

6.



schaal 1



schaal 2

Hier zie je twee schalen met slagroom. In schaal 1 zit niet meer of minder slagroom dan in schaal

2.

Je kunt zeggen:

HERHALING

net zo zwaar als – even zwaar als

net zo duur als – even duur als

1.



bank




koffer

Hier zie je een bank en een koffer.
De bank kost €22,50 en de koffer
kost €22,50.

Je kunt zeggen:

2.



Hier zie je een hamer en een
doosje met eieren. De hamer
weegt 400 gram en het doosje met
eieren weegt 400 gram.

Je kunt zeggen:

3.



vogelkooi met
met 2 vogels




papegaai

Hier zie je een vogelkooi met 2
vogels en een papegaai. De vogel-
kooi met de vogels kost €35,00 en
de papegaai kost €35,00.

Je kunt zeggen:

4.



Hier zie je een volle koffer en een
fiets. De volle koffer weegt 16 kilo
en de fiets weegt 16 kilo.

Je kunt zeggen:
